

Карточка 7.

Напиши числовой ряд от 0 до 8.

Обведи в кружок самое большое число в числовом ряду.

Напиши числовой ряд от 8 до 0.

Обведи в квадрат самое маленькое число в числовом ряду.

Реши примеры.


$7 + 1 =$ $8 - 5 =$ $8 - 4 =$ $3 + 5 =$

$8 - 2 =$ $2 + 6 =$ $8 - 8 =$ $6 + 2 =$

Реши задачи на сложение и запиши их решения.

В аквариуме жили три рыбки.
К ним пустили ещё двух. Сколько
рыбок стало в аквариуме?


	+		=	
--	---	--	---	--



Ёжик нёс четыре гриба
и четыре яблока. Сколько
всего предметов нёс на
своих иголках ёжик?

	+		=	
--	---	--	---	--

На полках стояли пять
кукол и три неваляшки.
Сколько всего игрушек
стояло на полках?



	+		=	
--	---	--	---	--

Поставь в тетради две точки и проведи линию так, чтобы она прошла через эти точки.

Карточка 8.

Напиши строчку цифры 8.

Сравни числа.

8 ... 2 6 ... 7 4 ... 4

1 ... 5 8 ... 8 5 ... 7

7 ... 6 3 ... 4 6 ... 4

Реши задачи на вычитание и запиши их решения.

В гараже стояли пять машин.
Утром две уехали. Сколько
машин осталось?



	-		=	
--	---	--	---	--



	-		=	
--	---	--	---	--

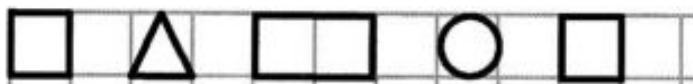
В гнезде сидели семь птичек.
Три птички улетели. Сколько
птичек осталось?



Около елки росло восемь грибов.
Четыре из них несъедобных. Сколько
съедобных грибов росло под елкой?

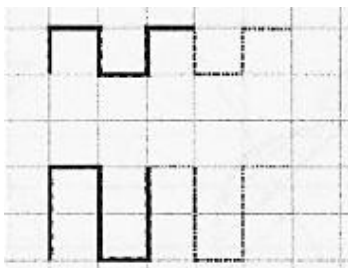
	-		=	
--	---	--	---	--

Нарисуй такой же узор. Продолжи его.



Карточка 9.

Нарисуй такой же узор. Продолжи его.



Поставь в тетради 4 точки. Соедини их по линейке.

Какая геометрическая фигура получилась?



Поставь в тетради 3 точки. Соедини их по линейке.

Какая геометрическая фигура получилась?



Поставь в тетради 4 точки. Соедини их по линейке.

Какая геометрическая фигура получилась?



Нарисуй по клеткам таких же зверей и раскрась.

